

KOD UCZNIĄ: _ _ _

V Megaolimpiada wiedzy

Konkurs historyczny dla klas trzecich

gimnazjum

23 marzec 2010 rok

Instrukcja:

1. W zestawie znajduje się 30 pytań.
2. Czas przeznaczony na rozwiązanie testu to 45 minut.
3. Uważnie przeczytaj polecenia do zadań.
4. Prawidłową odpowiedź zaznacz krzyżykiem.
5. W przypadku pomyłki, błędną odpowiedź otocz kółkiem.
6. Nie wolno używać korektora ani ołówka.
7. Łącznie można zdobyć 90 punktów.


Powodzenia!

Grupa B

1. Brąz to nazwa prehistorycznej epoki, która swą nazwę zawdzięcza stopieni dwu pierwiastków: (1p)

- A) miedzi i cyny
- B) miedzi i żelaza
- C) cyny i ołowiu
- D) miedzi i srebra

2. Przyjrzyj się ilustracji z prawej strony i odpowiedz na pytania.



A) Jak nazywa się ta budowla? (1p)

.....

B) Z jakim państwem jest związana? (1p)

.....

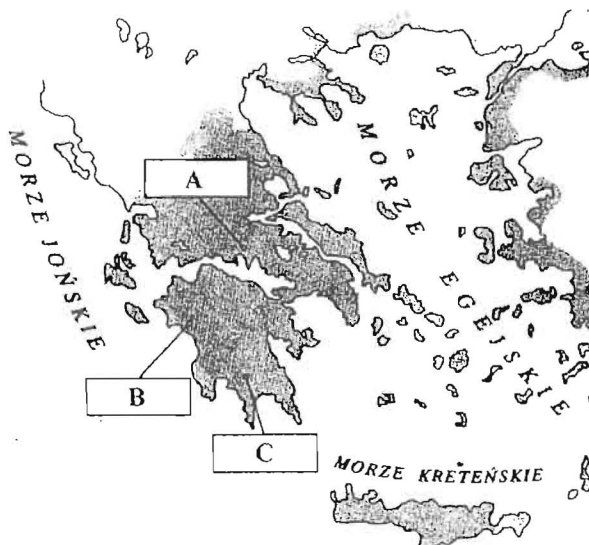
C) Podaj jedną funkcję, jaką pełniła ta budowla. (1p)

.....

3. Według tradycji zjednoczenia Górnego i Dolnego Egiptu około 3000 lat p.n.e. dokonał:

- A) Ramzes II (1p)
- B) Seti I
- C) Menes
- D) Amenhotep I

4. Na podstawie mapy odpowiedz na pytania.



A) Polis oznaczone literą A to: (1p)

.....

B) Zaznacz na mapie Kretę i Ateny. (2p)

C) Podkreśl błędną informację: (1p)

Linia brzegowa Grecji:

- była dobrze rozwinięta
- sprzyjała rozwojowi żeglarstwa
- jest pełna licznych zatok
- utrudniała żeglowanie ze względu na dużą

ilość wysp.

5. Uzupełnij tabelkę dotyczącą sprawowania władzy w starożytnej Sparcie i starożytnych Atenach. (8p)

Organ władzy	Kompetencje	Polis
eforowie		
	Organ odwoławczy od decyzji urzędników, z czasem najważniejszy organ sądowy w sprawach administracyjnych	
	Zwierzchnictwo nad armią, uprawnienia religijne	
Zgromadzenie Ludowe		

6. Ponumeruj wydarzenia od najwcześniejszego do najpóźniejszego. (5p)

Bitwa pod Maratonem	
Upadek cywilizacji mykeńskiej	
Podbój Persji przez Aleksandra Macedońskiego	
Pierwsze igrzyska olimpijskie	
Założenie przez Platona Akademii	

7. Według legendy o założeniu Rzymu, Romulus i Remus mieli być potomkami: (1p)

- A) Odyseusza
- B) Agamemnona
- C) króla Priama
- D) Eneasza

8. Do podanej niżej charakterystyki dopisz nazwę urzędnika rzymskiego. (3p)

A) – powoływany przez senat w razie zagrożenia państwa na okres sześciu miesięcy

B) – urzędnicy powoływani na jednoroczną kadencję, ich zadaniem było dbać o bezpieczeństwo i porządek oraz organizować igrzyska

C) – urzędnicy pilnujący przestrzegania zasad obyczajowych

9. Wy tłumacz, skąd wzięły się powiedzenia i co oznaczały oraz co znaczą dziś. (6p)

„Hannibal ad portas”

.....

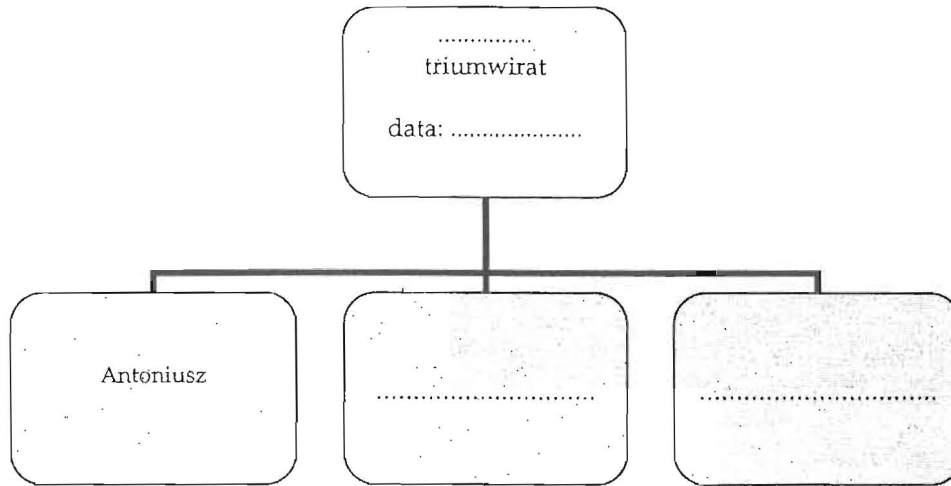
„I ty, Brutusie, przeciwko mnie”?.....

.....

„Wszystkie drogi prowadzą do Rzymu”

10. Uzupełnij schemat wpisując numer triumwiratu, jego datę i pozostałych uczestników:

(4p)



11. Karol Wielki koronował się na cesarza:

(1p)

- A) w 496 roku
- B) w 751 roku
- C) w 800 roku
- D) w 962 roku

12. Podaj nazwę stylu w jakim zbudowano ukazany na zdjęciu kościół, a następnie wymień trzy cechy tego stylu. (4p)

Styl

Cechy:

- a).....
- b).....
- c).....



13. Które wydarzenie nie jest związane z panowaniem Mieszka I ?

(1p)

- A) odparcie najazdu margrabiego Hodona
- B) wydanie dokumentu *Dagome iudex*
- C) poślubienie Ody, córki margrabiego Marchii Północnej
- D) wojna z Henrykiem II

14. Rozstrzygnij, czy zdanie jest prawdziwe, czy fałszywe. W tabeli w odpowiednich rubrykach wpisz P (prawda) bądź F (fałsz). (3p)

Najbiedniejszą grupę mieszczan w średniowieczu stanowili patrycjusze.	
Pańszczyzna to forma renty feudalnej polegająca na pracy chłopu na polu pana.	
Podczas zakładania wsi wójtowi przypadała największa i najżyźniejsza działka.	

15. Uzupełnij zdania: (4p)

Unia w Krewie została zawarta w roku. Na jej mocy Polskę i Litwę połączyła unia Ślub i zapoczątkował panowanie nowej dynastii

16. Portugalski żeglarz Vasco da Gama: (1p)

- A) odkrył drogę morską z Europy do Indii
- B) dotarł do wybrzeży Brazylii
- C) jako pierwszy dopłynął do Przylądka Dobrej Nadziei
- D) po śmierci Magellana stanął na czele podróży dookoła świata

17. Na podstawie fragmentu tekstu odpowiedz na pytania: (3p)

My, rady koronne, duchowe i świeckie i rycerstwo wszystko i stany insze jednej a nierozdzielnej Rzeczypospolitej, oznajmujemy wszystkim [...] że którzy jesteśmy różni w wierze, pokój między sobą zachować. A dla różnej wiary i odmiany w kościołach krwi nie przelewać [...]

Niniejszy tekst to fragment aktu konfederacji zawiązanej przez szlachtę w

Konfederację zawiązano w roku.

Była ona świadectwem niespotykanej wówczas w Europie

.....

18. Przyporządkuj wydarzenie do odpowiednich kolumn w tabelce. (8p)

pokój w Buczaczu, ugoda w Hadziaczu, bitwa pod Żółtymi Wodami, bitwa pod Kłuszynem, rozejm w Andruszowie, bitwa pod Cecorą, rozejm w Starym Targu, bitwa pod Oliwą

Wojny polsko - tureckie	Wojny polsko - szwedzkie	Wojny polsko - rosyjskie	Powstania kozackie

--	--	--	--

19. W drugiej połowie XVII wieku przeciwko rządowi Jana Kazimierza szlachta zorganizowała rokosz, potocznie zwany od nazwiska jednego z przywódców: (1p)

- A) rokoszem Lubomirskiego
- B) rokoszem Zebrzydowskiego
- C) rokoszem Mniszcha
- D) rokoszem Radziwiłła



20. Przyjrzyj się obrazowi z prawej strony a następnie odpowiedz na pytania.

- A) Podaj nazwisko postaci widniejącej z prawej strony obrazu (1p)
- B) W którym roku rozegrały się przedstawione wydarzenia? (1p)
- C) Czyj portret widnieje w środku obrazu? (1p)

21. W czasie trwania Sejmu Wielkiego na czele stronnictwa hetmańskiego stali: (1p)

- A) Ignacy Potocki i Hugo Kołłątaj
- B) Franciszek Ksawery Branicki i Seweryn Rzewuski
- C) Józef Poniatowski i Tadeusz Kościuszko
- D) Jak Kiliński i Jakub Jasiński

22. Księstwo Warszawskie powiększono o ziemie III zaboru austriackiego: (1p)

- A) na mocy traktatu w Tylży
- B) po wyruszeniu Napoleona na Rosję
- C) po zwycięstwie Polaków pod Raszynem
- D) po bitwie pod Wagram i pokoju w Schönbrunn

23. Wyjaśnij pojęcia i podaj datę wydarzenia: (6p)

rabacja galicyjska

.....

„marsz tysiąca czerwonych koszul”

.....

wojna secesyjna

24. O jakiej dziewiętnastowiecznej postaci mowa? (4p)

- A) – premier Prus i kanclerz Niemiec. Doprowadził do zjednoczenia Niemiec tocząc zwycięskie wojny z Danią, Austrią i Francją.
- B) – twórca ugrupowania Hotel Lambert na emigracji .
- C) – jeden z najwybitniejszych polskich malarzy, głównym tematem jego obrazów była historia Polski. Autor między innymi obrazu „Kazanie Skargi”.
- D) – człowiek – symbol walki z germanizacją, władze pruskie zabroniły mu postawić dom, więc zamieszkał w wozie cyrkowym.

25. Czołgi po razie pierwszy zostały użyte w bitwie: (1p)

- A) pod Marną
- B) pod Verdun
- C) pod Sommą
- D) pod Tannenbergiem

26. Dyktatorem trzeciego powstania śląskiego był: (1p)

- A) Wincenty Witos
- B) Alfons Zgrzebniok
- C) Franciszek Merik
- D) Wojciech Korfanty

27. Podpisz zdjęcia wybitnych polskich polityków dwudziestolecia międzywojennego. (4p)



.....
.....

.....
.....

.....
.....

.....
.....

28. Ponumeruj wydarzenia od najwcześniejszego do najpóźniejszego. (5p)

Powstanie w getcie warszawskim	
Układ Sikorski – Majski	
Śmierć Władysława Sikorskiego	
Mord katyński	
Przekształcenie Związku Walki Zbrojnej w Armię Krajową	

29. Ho Chi Min: (1p)

- A) był współzałożycielem Komunistycznej Partii Wietnamu i północnowietnamskim dyktatorem
- B) stał na czele reżimu Czerwonych Khmerów w Kambodży
- C) był przywódcą Kuomintangu i prezydentem Chin, który w wyniku zwycięstwa komunistów w wojnie domowej musiał schronić się na Tajwanie
- D) był przywódcą Komunistycznej Partii Korei i dyktatorem Koreańskiej Republiki Ludowo – Demokratycznej

30. Wojna Yom Kippur między Izraelem a Egiptem i Syrią miała miejsce w roku: (1p)

- A) 1948
- B) 1956
- C) 1967
- D) 1973

Grupa B
Do zadania 12.



Do zadania 20.



Do zadania 27.

