

KOD UCZNIĄ: _ _ _



V Megaolimpiada wiedzy

Konkurs historyczny dla klas trzecich gimnazjum

23 marzec 2010 rok

Instrukcja:

1. W zestawie znajduje się 30 pytań.
2. Czas przeznaczony na rozwiązanie testu to 45 minut.
3. Uważnie przeczytaj polecenia do zadań.
4. Prawidłową odpowiedź zaznacz krzyżykiem.
5. W przypadku pomyłki, błędnej odpowiedzi otocz kółkiem.
6. Nie wolno używać korektora ani ołówka.
7. Łącznie można zdobyć 90 punktów.

Powodzenia!

Grupa A

1. Rewolucja neolityczna, dzięki której ludzie zaczęli prowadzić osiadły tryb życia, miała miejsce: (1p)

- A) około 30 tysięcy lat p.n.e.
- B) około pół miliona lat p.n.e.
- C) około 10 tysięcy lat p.n.e.
- D) w najstarszej epoce kamienia

2. Przyjrzyj się ilustracji z prawej strony i odpowiedz na pytania.

A) Jak nazywa się przedmiot ukazany na zdjęciu? (1p)

.....

B) Z jakim państwem jest związany? (1p)

.....

C) Co symbolizuje ten przedmiot? (1p)

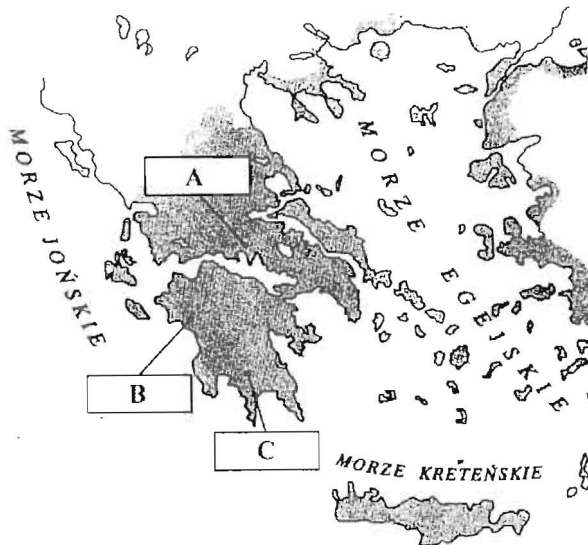
.....



3. Bogiem starożytnego Egiptu nie był: (1p)

- A) Ozyrys
- B) Izyda
- C) Tot
- D) Marduk

4. Na podstawie mapy odpowiedz na pytania.



A) Polis oznaczone literą C to: (1p)

.....

B) Zaznacz na mapie półwysep Peloponeski i górę Olimp. (2p)

C) Podkreśl błędną informację: (1p)

Linia brzegowa Grecji:

- była dobrze rozwinięta
- sprzyjała rozwojowi żeglarstwa
- jest pełna licznych zatok
- utrudniała żeglowanie ze względu na dużą ilość wysp.

5. Uzupełnij tabelkę dotyczącą sprawowania władzy w starożytnej Sparcie i starożytnych Atenach. (8p)

Organ władzy	Kompetencje	Polis
Geruzja		
	Strzegł praw i obyczajów, z czasem jego kompetencje ograniczono do sądownictwa w sprawach zabójstwa	
	Wybór członków geruzji i eforów, decyzja o wojnie i pokoju, głosowanie nad ustawami	
Rada Pięciuset		

6. Ponumeruj wydarzenia od najwcześniejszego do najpóźniejszego. (5p)

Bitwa pod Termopilami	
Śmierć Aleksandra Macedońskiego	
Wojna trojańska	
Powstanie „Iliady” i „Odysei”	
Działalność Sokratesa w Atenach	

7. Ostatnim królem panującym w Rzymie przed powstaniem republiki był: (1p)

- A) Tarkwiniusz Pyszny
- B) Romulus
- C) Tarkwiniusz Stary
- D) Tyberiusz

8. Do podanej niżej charakterystyki dopisz nazwę urzędnika rzymskiego. (3p)

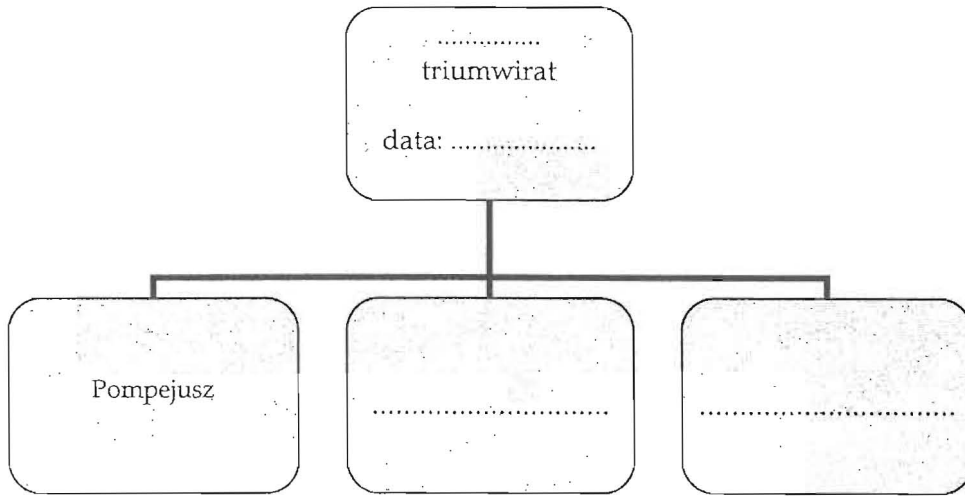
- A) – było ich dwóch, w czasie rocznej kadencji należała do nich najwyższa władza wojskowa, pełnili też nadzór nad finansami i sądownictwem
- B) – sędziowie wybierani na jednoroczną kadencję
- C) – ich zadaniem była obrona biedniejszej części ludności, posiadali prawo weta wobec decyzji urzędników i ustaw senatu.

9. Wytlumacz, skąd wzięły się powiedzenia i co oznaczały oraz co znaczą dziś. (6p)

- „Alea iacta est”
-
- „Pyrrusowe zwycięstwo”
-
- „Wszystkie drogi prowadzą do Rzymu”

10. Uzupełnij schemat wpisując numer triumwiratu, jego datę i pozostałych uczestników:

(4p)



11. Ucieczka Mahometa z Mekki do Medyny miała miejsce:

(1p)


- A) w 620 roku
- B) w 622 roku
- C) w 711 roku
- D) w 732 roku

12. Podaj nazwę stylu w jakim zbudowano ukazany na zdjęciu kościół, a następnie wymień trzy cechy tego stylu. (4p)

Styl

Cechy:

- a).....
- b).....
- c).....



13. Które wydarzenie nie jest związane z panowaniem Bolesława Chrobrego?

(1p)

- A) misja biskupa praskiego Wojciecha wśród Prusów
- B) zajęcie Czech
- C) wyprawa na Kijów i osadzenie na tamtejszym tronie swojego zięcia Świętopelka
- D) zabójstwo brata Zbigniewa

14. Rozstrzygnij, czy zdanie jest prawdziwe, czy fałszywe. W tabeli w odpowiednich rubrykach wpisz P (prawda) bądź F (fałsz). (3p)

Wolnizna to określona liczba lat, w których nowi osadnicy zwolnieni byli z opłat.	
Dziesięcina to świadczenie na rzecz władcy stanowiące dziesiątą część dochodu.	
Dobra ziemskie przekazywane wasalowi przez seniora nazywano lennem.	

15. Uzupełnij zdania: (4p)

W 1409 roku wybuchło antykrzyżackie powstanie na Do decydującego starcia między wojskami polskimi i litewskimi a Krzyżakami doszło pod Po śmierci Ulricha von Jungingena na polu walki, nowym mistrzem Zakonu Krzyżackiego został W 1411 roku podpisał on traktat pokojowy w

16. Portugalski żeglarz Bartłomiej Diaz: (1p)

- A) dotarł do najdalej wysuniętego na południe zakątka Afryki
- B) odkrył drogę morską z Europy do Indii
- C) odkrył Nową Fundlandię
- D) podbił państwo Inków

17. Na podstawie fragmentu tekstu odpowiedz na pytania: (3p)

Abyśmy byli w zupełnej zgodzie z Kościołem katolickim, to jeśli coś przedstawia się naszym oczom jako białe, a on uzna to za czarne, mamy oświadczyć również, że to jest czarne.

Zalecenie to stało się myślą przewodnią zakonu

Założycielem zakonu był

Zakon został założony w roku.

18. Przyporządkuj wydarzenia do odpowiednich kolumn w tabelce. (8p)

bitwa pod Kircholmem, ugoda w Białej Cerkwi, bitwa pod Beresteczkiem, bitwa pod Cudnowem, pokój Grzymułtowskiego, bitwa pod Wiedniem, rozejm w Sztumskiej Wsi, bitwa pod Trzcianą

Wojny polsko - tureckie	Wojny polsko - szwedzkie	Wojny polsko - rosyjskie	Powstania kozackie

19. Na początku XVII wieku przeciwko rządowi Zygmunta III Wazy szlachta zorganizowała rokosz, potocznie zwany od nazwiska jednego z przywódców: (1p)

- A) rokoszem Lubomirskiego
- B) rokoszem Zebrzydowskiego
- C) rokoszem Mniszcha
- D) rokoszem Radziwiłła



20. Przyjrzyj się obrazowi z prawej strony a następnie odpowiedz na pytania.

- A) Jak nazywa się twierdza przedstawiona na obrazie? (1p)
- B) W którym roku doszło do jej zdobycia? (1p)

C) Zdobycie twierdzy zapoczątkowało (1p)

21. W czasie trwania Sejmu Wielkiego na czele stronnictwa patriotycznego stali: (1p)

- A) król Stanisław August Poniatowski i Jan Kiliński
- B) Józef Poniatowski i Tadeusz Kościuszko
- C) Ignacy i Stanisław Potoccy
- D) Ignacy Krasicki i Wojciech Bogusławski

22. Bitwą trzech cesarzy nazywa się czasem: (1p)

- A) bitwę pod Auerstadt
- B) bitwę pod Trafalgarem
- C) bitwę po Jeną
- D) bitwę po Austerlitz

23. Wyjaśnij pojęcia i podaj datę wydarzenia: (6p)

„branka”
.....
„depesza emska” (depesza z Ems).....
.....
wojna krymska
.....

24. O jakiej dziewiętnastowiecznej postaci mowa? (4p)

- A) – włoski rewolucjonista, brał udział we Wiośnie Ludów i walkach o zjednoczenie Włoch. Najsłynniejsza była jego „wyprawa tysiąca czerwonych koszul” na Sycylię.
- B) – przywódca Sprzysiężenia Podchorążych, jeden z organizatorów powstania listopadowego.
- C) – prezydent Stanów Zjednoczonych, zniósł niewolnictwo.
- D) – wybitna polska pisarka okresu pozytywizmu, autorka wielu powieści, między innymi „Marty”, „Meira Ezofowicza” i „Nad Niemnem”.

25. Gaz bojowy iperyt zastosowano po raz pierwszy w bitwie: (1p)

- A) pod Ypres
- B) pod Sommą
- C) pod Verdun
- D) pod Marną

26. Dowódcą powstania wielkopolskiego, jedyne z polskich powstań zakończonego pełnym zwycięstwem, był: (1p)

- A) Ignacy Paderewski
- B) Józef Dowbór - Muśnicki
- C) Wojciech Korfanty
- D) Józef Haller

27. Podpisz zdjęcia wybitnych polskich polityków dwudziestolecia międzywojennego. (4p)



.....
.....

.....
.....

.....
.....

.....
.....

28. Ponumeruj wydarzenia związane z wojną obronną Polski w 1939 roku od najwcześniejszego do najpóźniejszego. (5p)


Bitwa nad Bzurą	
Kapitulacja Warszawy	
Kapitulacja załogi polskiej na Westerplatte	
Bitwa pod Kockiem	
Ewakuacja Naczelnego Dowództwa, prezydenta i rządu Rzeczypospolitej do Rumunii	

29. Kim Ir Sen: (1p)


- A) stał na czele reżimu Czerwonych Khmerów w Kambodży
- B) był przywódcą Komunistycznej Partii Korei i dyktatorem Koreańskiej Republiki Ludowo - Demokratycznej
- C) był współzałożycielem Komunistycznej Partii Wietnamu i północnowietnamskim dyktatorem
- D) był przywódcą Kuomintangu i prezydentem Chin, który w wyniku zwycięstwa komunistów w wojnie domowej musiał schronić się na Tajwanie

30. Konflikt arabsko – izraelski zwany wojną sześciodniową miał miejsce w roku: (1p)

- A) 1948
- B) 1956
- C) 1967
- D) 1973



Grupa A
Do zadania 12.



Do zadania 20.

Do zadania 27.

