

--	--	--	--	--	--

Kod ucznia

MEGAOLIMPIADA

Z GEOGRAFII

ROK SZKOLNY 2009/2010

Instrukcja

1. Sprawdź, czy arkusz konkursowy zawiera 8 zadań.
2. Sprawdź, czy mapy i wykresy są czytelne.
3. Czytaj uważnie treść zadań.
4. Zadania są o różnicowym poziomie trudności - zamknięte i otwarte.
5. Odpowiedzi do zadań zamkniętych zaznaczaj przy danym zadaniu, w zadaniach otwartych w miejscach na to przeznaczonych.
6. Gdy popełnisz błąd w zadaniach, przekreśl złą odpowiedź i obok napisz poprawną.
7. Do udzielania odpowiedzi używaj czarnego lub niebieskiego długopisu.
8. Nie używaj korektora.
9. Pamiętaj , pierwsza myśl najlepsza!

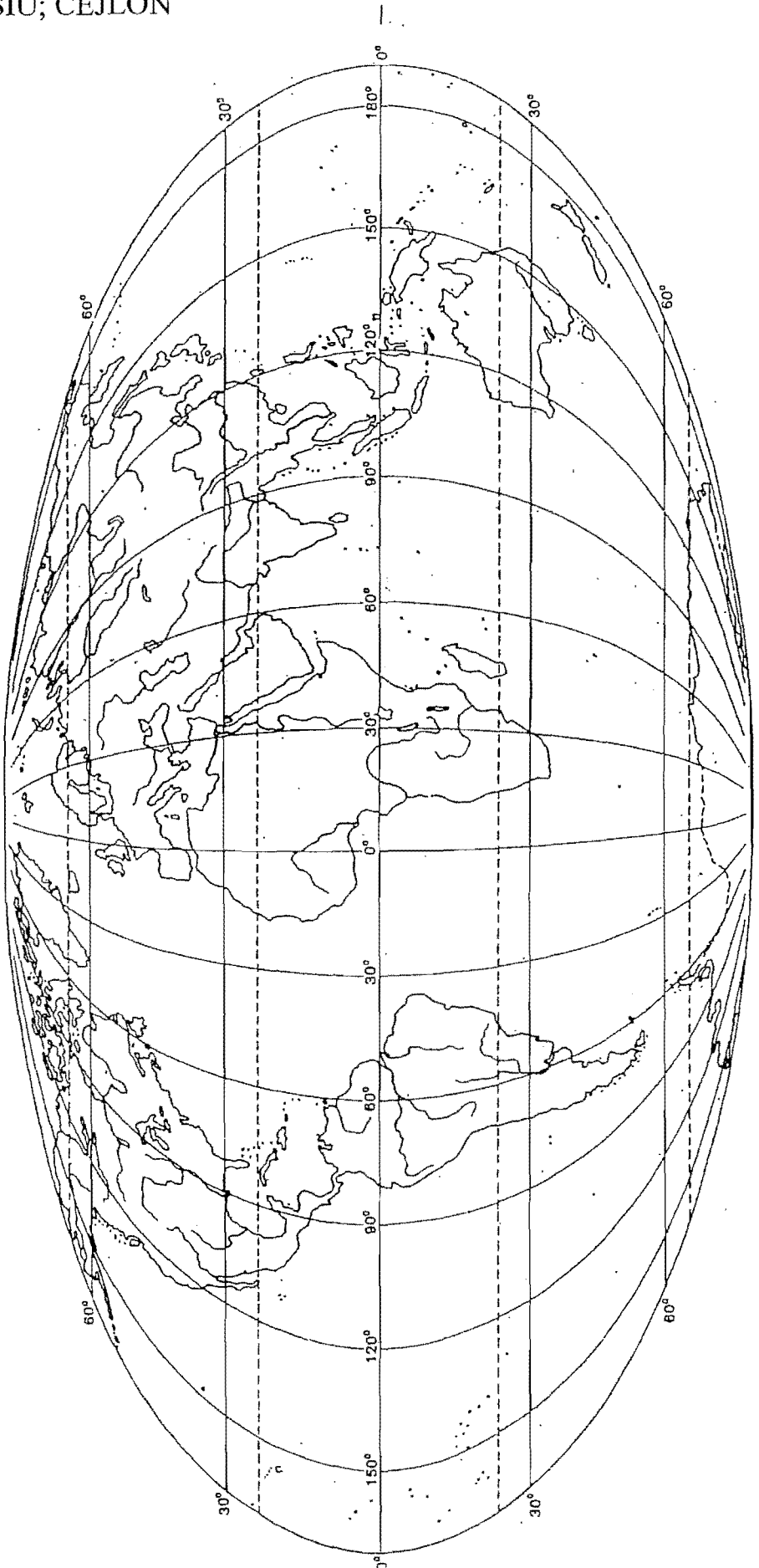
Czas przeznaczony na rozwiązanie zadań - 45 minut.

POWODZENIA

Zadanie 1 (13p)

Korzystając z mapy konturowej świata, wpisz w odpowiednich miejscach nazwy poniższych obiektów geograficznych.

- KOLDYLIERY; ATLAS; APPALACHY; WIELKIE GÓRY WODODZIAŁOWE
- NIZINA INDUSU; CHIŃSKA; LA PLATY
- PÓŁWYSEP: IBERYJSKI; INDOCHIŃSKI; KALIFORNIJSKI
- WYSPIY: MADAGASKAR; HONSIU; CEJLON



Zadanie 2

Korzystając z mapy administracyjnej Polski wykonaj następujące polecenia

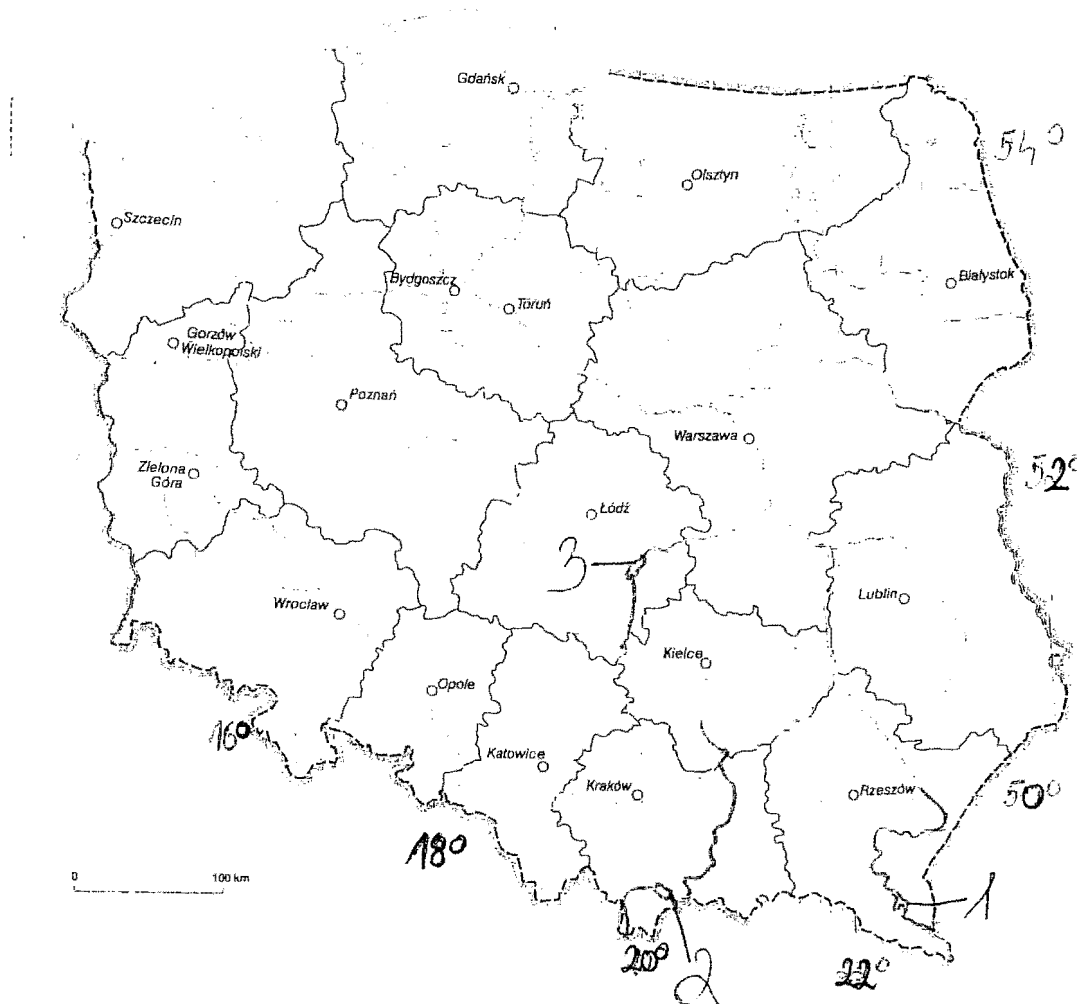
a) w pisz w odpowiednim miejscu na mapie nazwy danych krain geograficznych Sudety, Polesie Lubelskie, Kotlina Warszawska, Wybrzeże Słowińskie (2p)

b) podaj nazwy jezior antropogenicznych zaznaczonych na mapie numerami 1;2; 3 oraz nazwy rzek na których te jeziora utworzono. (6p)

1-.....,

2.....,

3.....,



Zadanie 3

Na podstawie mapy konturowej Europy:

a) napisz we właściwym miejscu nazwy państw europejskich będących założycielami Europejskiej Wspólnoty Węgla i Stali. ((4p)

b) podaj nazwy zbiorników wodnych oznaczonych literami: (2p)

C.....; F.....
G.....; E.....

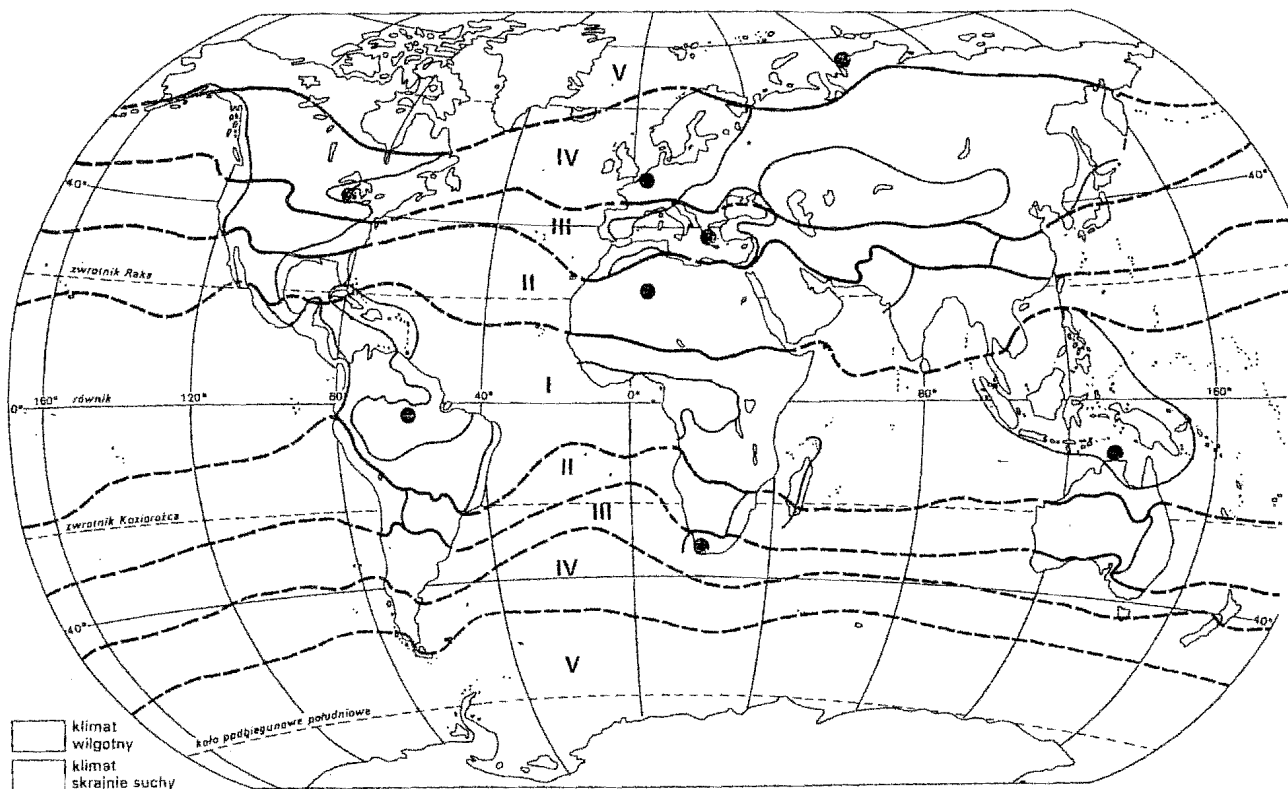


Zadanie 4 (8p)

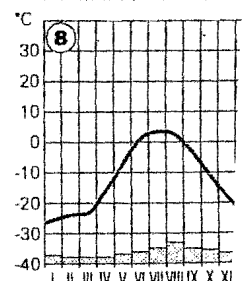
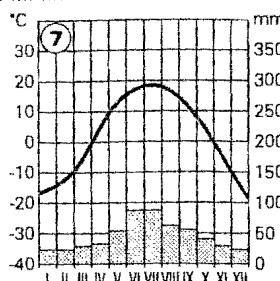
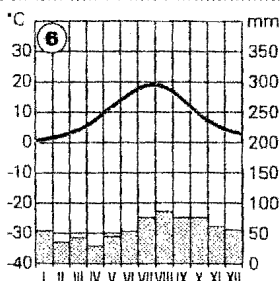
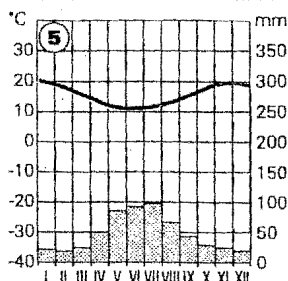
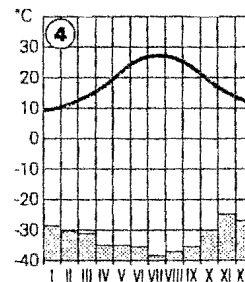
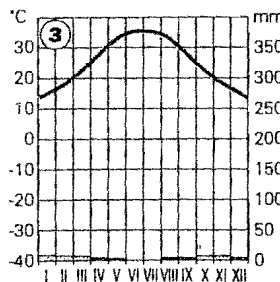
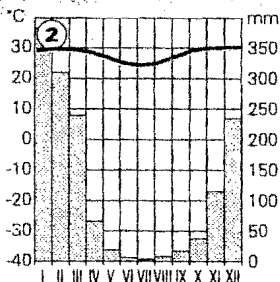
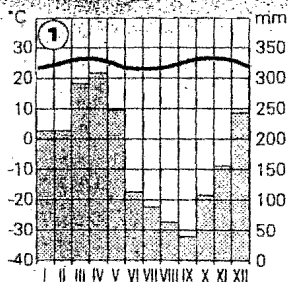
Dopasuj wykres klimatyczny(tylko numer 1, 8; 4 ; 6) do odpowiedniego miejsca na mapie

a) dopisz numer właściwego wykresu obok kropki na mapie

b) podaj nazwę strefy klimatycznej (1; 8;4;6)



Rys. 4.12.1



Zadanie 5 (4p)

Napisz jakie zbiorniki wodne łączą kanały

a) Sueski -.....;

b) Kiloński.....

c)La Manche.....

d)Panamski.....

Zadanie 6 (3p)

Zaznacz literą P- zdanie prawdziwe, literą B - fałszywe.

- 1.Umowną granicę zmiany daty stanowi południk 90°.
- 2.Gleby występujące na skałach wapiennych to mady.
- 3.Era mezozoiczna to era podczas której powstały góry Kaledońskie.
4. Wapienie to skały magmowe.
- 5.Saldo migracji to suma emigracji i imigracji.
6. Lasy namorzynowe występują w strefie umiarkowanej kontynentalnej.

Zadanie 7 (3p)

Wyjaśnij pojęcia:

Krasowienie.....
.....
.....

Aglomeracja

policentryczna.....
.....
.....

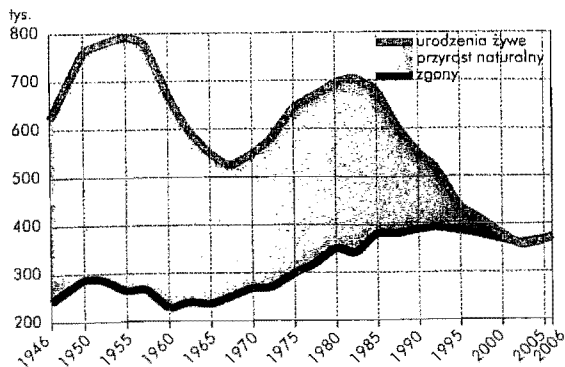
Węgiel

kamienny.....
.....
.....

Zadanie 8. (3p)

Na podstawie wykresu przedstawiającego ruch naturalny ludności Polski w latach 1946- 2006r

a) podaj nazwę i wyjaśnij przyczynę zjawiska jakie miało miejsce w latach 1975- 1985.



Ruch naturalny ludności w Polsce w latach 1946-2006