

--	--	--	--	--	--

Kod ucznia

# MEGAOLIMPIADA

## Z GEOGRAFII

ROK SZKOLNY 2009/2010

### Instrukcja

1. Sprawdź, czy arkusz konkursowy zawiera 8 zadań.
2. Sprawdź, czy mapy i wykresy są czytelne.
3. Czytaj uważnie treść zadań.
4. Zadania są o różnicowym poziomie trudności - zamknięte i otwarte.
5. Odpowiedzi do zadań zamkniętych zaznaczaj przy danym zadaniu, w zadaniach otwartych w miejscach na to przeznaczonych.
6. Gdy popełnisz błąd w zadaniach, przekreśl złą odpowiedź i obok napisz poprawną.
7. Do udzielania odpowiedzi używaj czarnego lub niebieskiego długopisu.
8. Nie używaj korektora.
9. Pamiętaj , pierwsza myśl najlepsza!

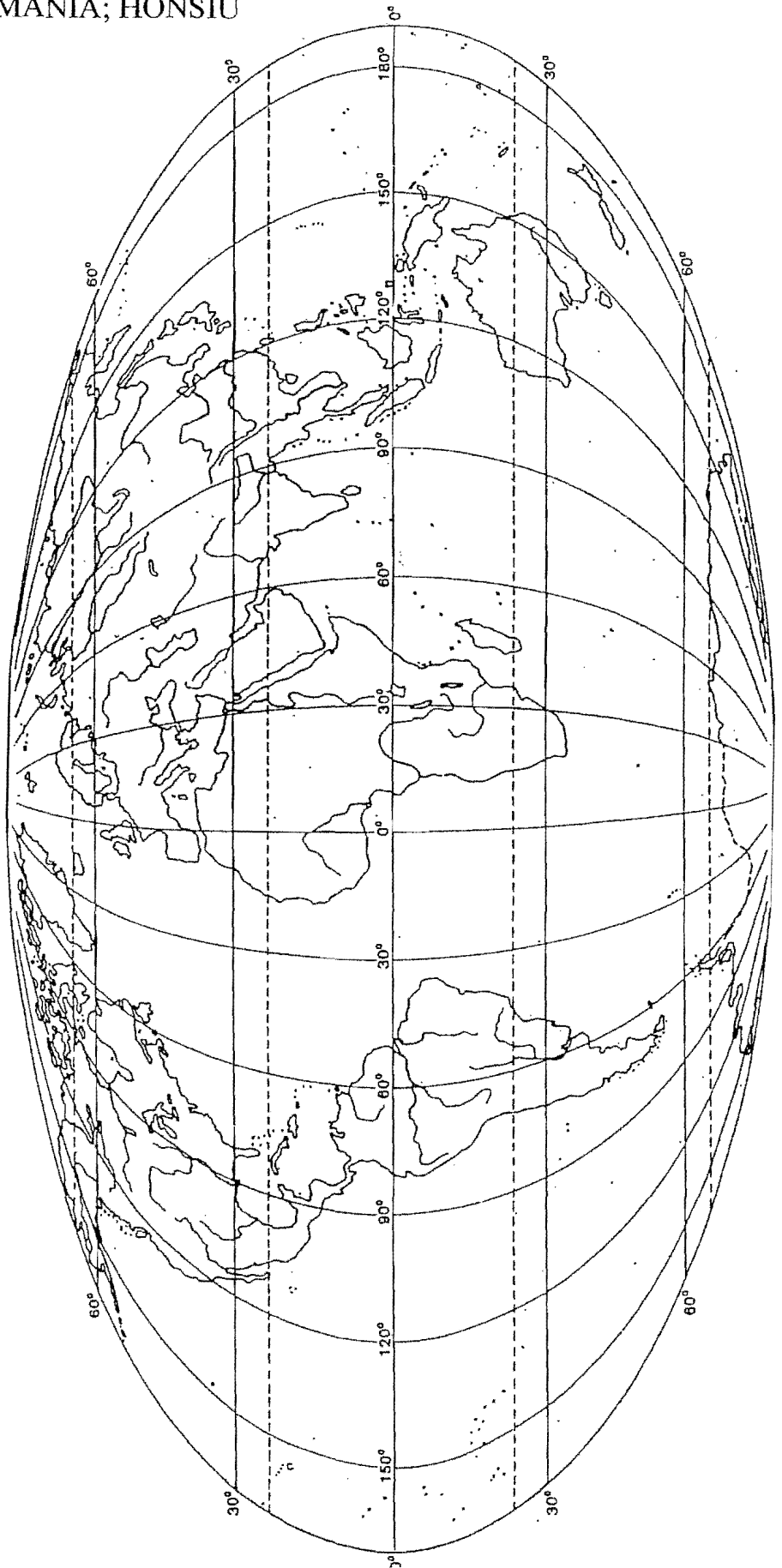
Czas przeznaczony na rozwiązanie zadań - 45 minut.

**POWODZENIA!**

Ćwiczenie 1 (13p)

Korzystając z mapy konturowej świata, wpisz w odpowiednich miejscach nazwy poniższych obiektów geograficznych.

ANDY; KAUKAZ, SMOCZE, PIRENEJE, NIZINA AMAZONKI; GANGESU; ZATOKOWA;  
PÓŁWYSEP: ARABSKI; SOMALIJSKI; INDOCHIŃSKI  
WYSPIY: ZIEMIA OGNISTA; TASMANIA; HONSIU



Korzystając z mapy administracyjnej Polski wykonaj następujące polecenia

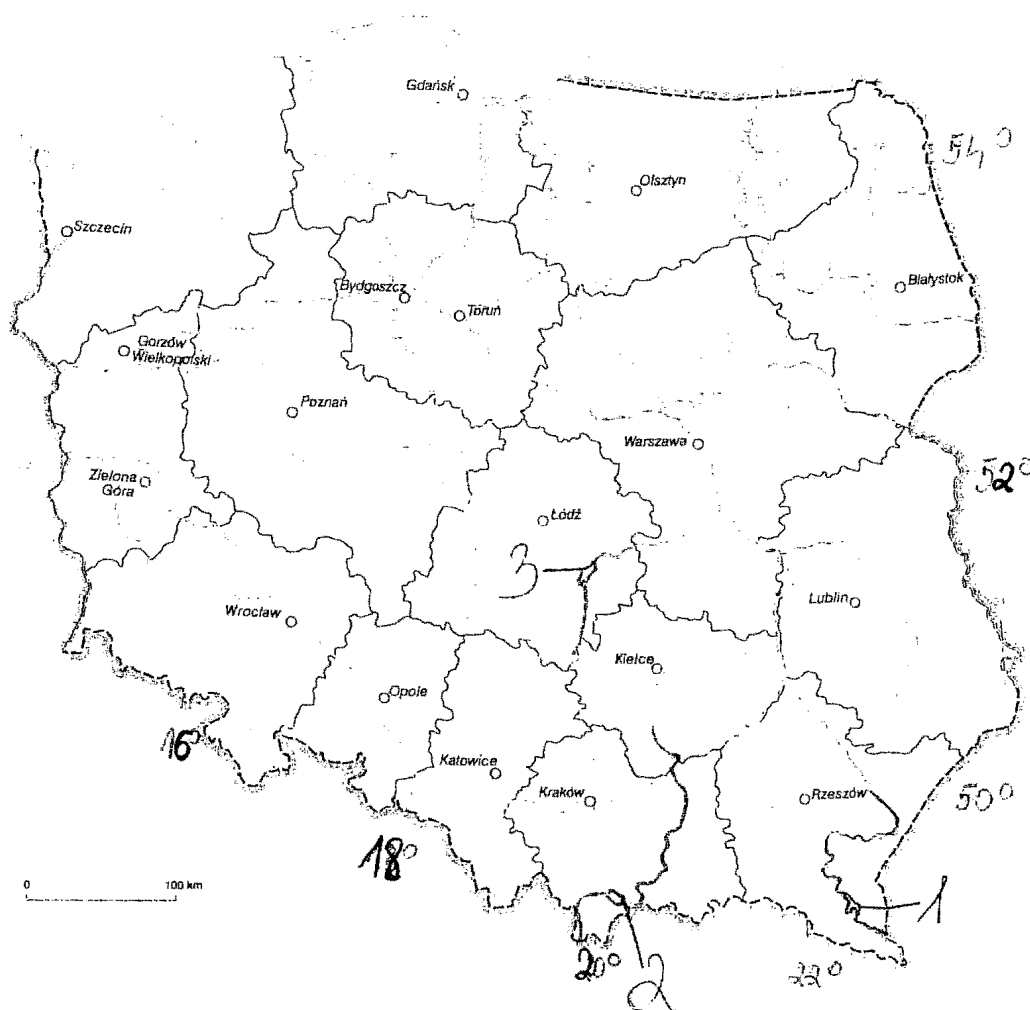
a) w pisz w odpowiednim miejscu na mapie nazwy danych krain geograficznych Karpaty, Żuławy Wiślane, Kotlina Biebrzańska, Wyżyna Śląska (2p)

b) podaj nazwy jezior antropogenicznych zaznaczonych na mapie numerami 1;2; 3 oraz nazwy rzek na których te jeziora utworzono. ( 6p)

1-....., .....

2....., .....

3....., .....

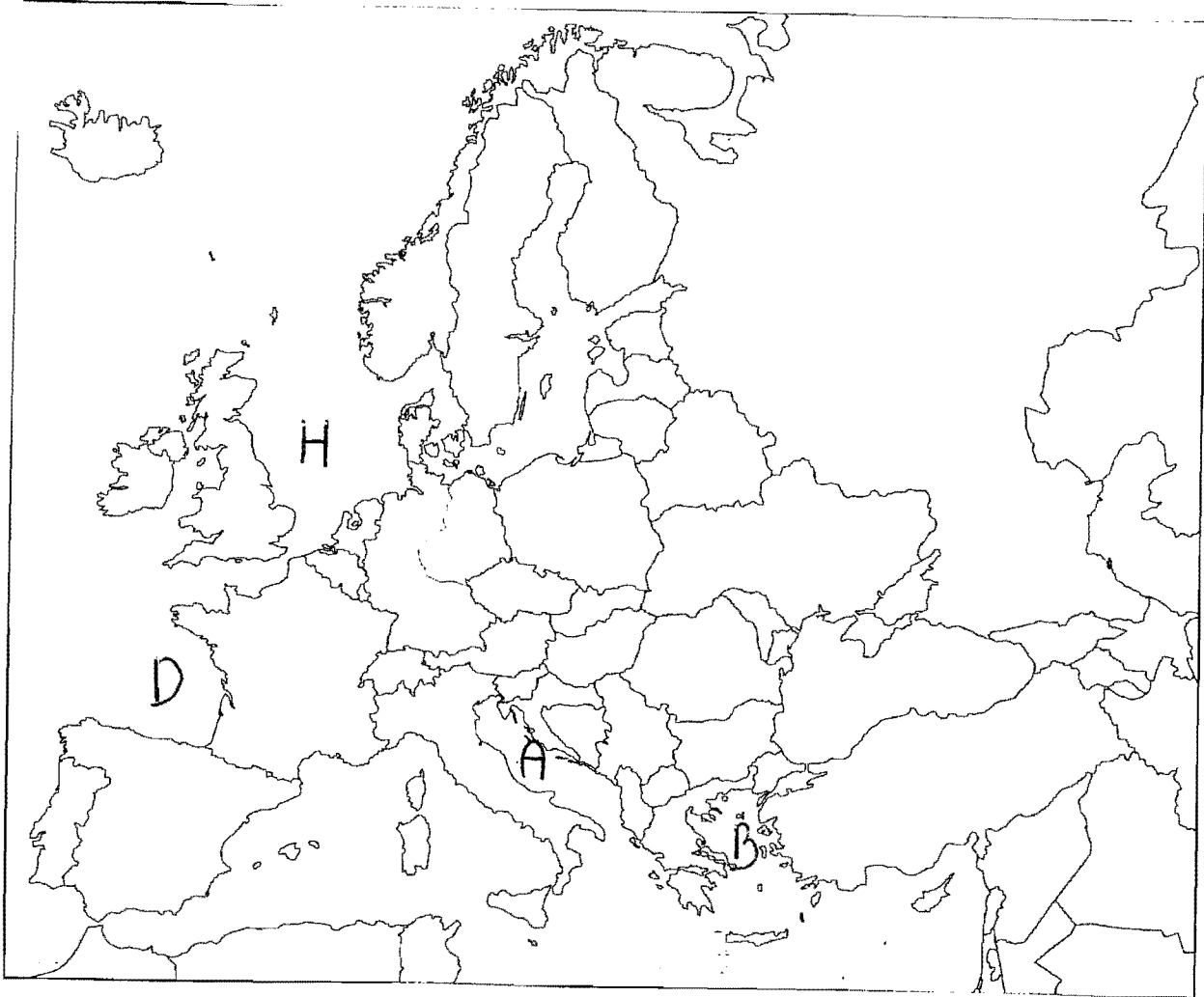


Na podstawie mapy konturowej Europy:

a) napisz we właściwym miejscu nazwy państw europejskich nie będących członkami Unii Europejskiej.((4p)

b) podaj nazwy zbiorników wodnych oznaczonych literami: (2p)

A.....; H.....  
B.....; D.....

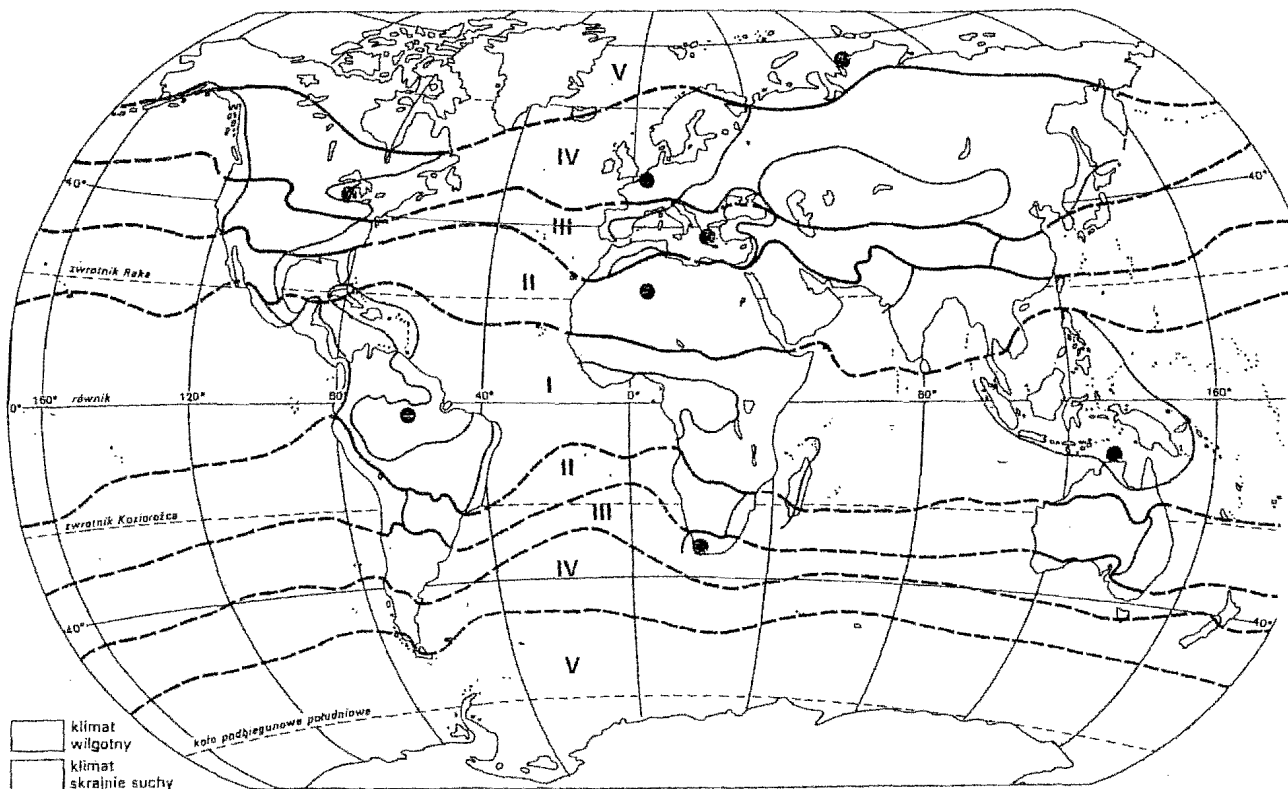


### Zadanie 4 ( 8p)

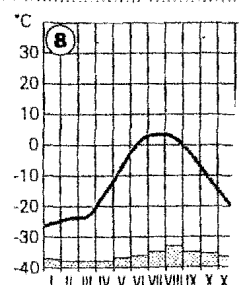
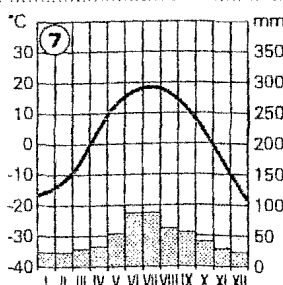
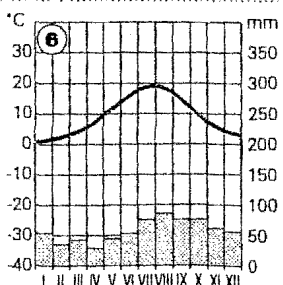
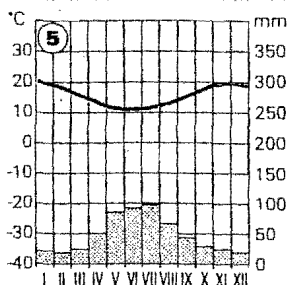
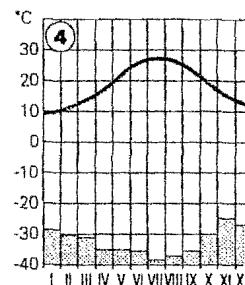
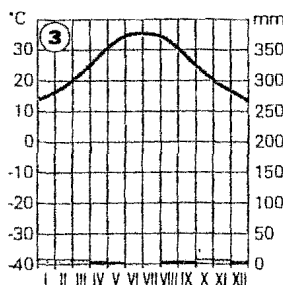
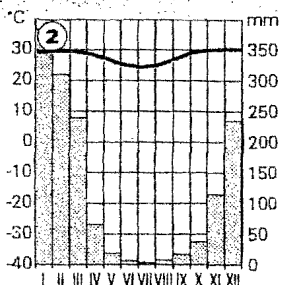
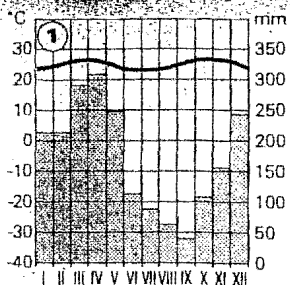
Dopasuj wykres klimatyczny( tylko numer 1, 8; 4 ; 6) do odpowiedniego miejsca na mapie

a) dopisz numer właściwego wykresu obok kropki na mapie

b) podaj nazwę strefy klimatycznej ( 1; 8;4;6)



Rys. 4.12.1



Zadanie 5 ( 4p)

Napisz jakie zbiorniki wodne łączą cieśniny:

- a) Magellana -.....;
- b) Kaletańska.....
- c)Bosfor.....
- d)Koreańska.....

Zadanie 6 (3p)

Zaznacz literą P- zdanie prawdziwe, literą B - fałszywe.

- 1.Na Ziemi wyróżniono 12 stref czasowych.
- 2.Gleby występujące na lessach to czarne ziemie.
- 3.Era mezozoiczna dzieli się na trias, jure, perm.
- 4. Wapienie to skały metamorficzne.
- 5.Przyrost naturalny to różnica pomiędzy liczbą urodzeń, a liczbą zgonów.
- 6. Lasy łęgowe rosną na glebach biellicowych.

Zadanie 7 (3p)

Wyjaśnij pojęcia:

Konurbacja.....  
.....  
.....

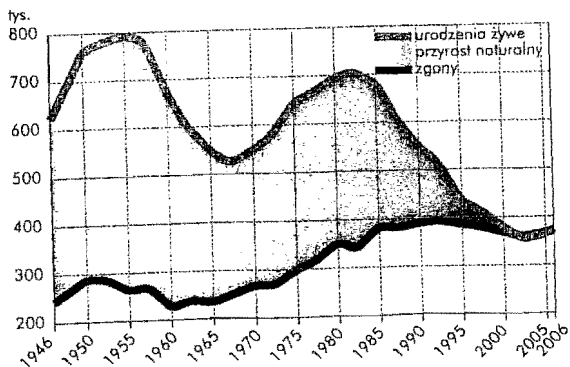
Gołoborze.....  
.....  
.....

Granit.....  
.....  
.....

Zadanie 8. (3p)

Na podstawie wykresu przedstawiającego ruch naturalny ludności Polski w latach 1946- 2006r

a) podaj nazwę i wyjaśnij przyczynę zjawiska jakie miało miejsce w latach 1950- 1955.



Ruch naturalny ludności w Polsce w latach 1946-2006